

TOREK, 12.5.

SPOZNAVANJE OKOLJA - PRAVILA V PROMETU

1. NAJPREJ KLIKNI NA POVEZAVO IN SI OGLEJ NEKAJ PRAVIL, KI JIH MORAMO UPOŠTEVATI V PROMETU.

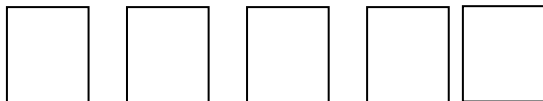
<https://www.lilibi.si/solska-ulica/spoznavanje-okolja/promet/pravila-v-prometu>

2. ODPRI BREZČRTNI ZVEZEK IN NAPIŠI NASLOV.
3. POSLUŠAJ NAVODILA, PREGLEDNO NARIŠI TER POBARVAJ.

VIDNOST V PROMETU

S ČIM POSKRBIŠ, DA TE VOZNIKI HITRO OPAZIJO? NARIŠI.
(SVETLA OBLAČILA, RUMENA RUTA, KRESNIČKA, ODSEVNIKI,...)

KDAJ JE SLABA VIDLJIVOST? (PONOČI, V MEGLI, KO DEŽUJE, KO SNEŽI,...)
NARIŠI S ŠABLONO KVADRATKE IN VANJE NARIŠI SLIKOVNE ZNAKE ZA VREME.



PIKTOGRAMI ALI NEBESEDNA – SLIKOVNA SPOROČILA

SE ŠE SPOMNITE, KAJ POMENIJO TI ZNAKI?


PO NAVODILIH OBKROŽI PIKTOGRAME.

- PIKTOGRAM »IZREŽI« OBKROŽI Z **RDEČO** BARVICO.
- PIKTOGRAM »NALEPI« OBKROŽI Z **MODRO** BARVICO.
- PIKTOGRAM »POSLUŠAJ« OBKROŽI Z **ZELENO** BARVICO.
- PIKTOGRAM »POVEJ« OBKROŽI Z **RUMENO** BARVICO.




TUDI **PROMETNI ZNAKI** SO PIKTOGRAMI. NARIŠI DVA PROMETNA ZNAKA IN POVEJ, KAJ POMENITA.


KAJ PA V RAZREDU? NARIŠI ZNAKE.



ZAPIRAJ VRATA .



POSPRAVI ČEVLJE.



NE SKAČI PO STOPNICAH.

PO NAVODILIH OBKROŽI PIKTOGRAME.

- PIKTOGRAM »MEČI ODPADKE V KOŠ« OBKROŽI Z **RDEČO** BARVICO.
- PIKTOGRAM »PREPOVEDANO SKAKANJE V VODO« OBKROŽI Z **MODRO** BARVICO.
- PIKTOGRAM »PREPOVEDANO ROLANJE« OBKROŽI Z **ZELENO** BARVICO.




ALI VESTE, KAJ POMENIJO OSTAL SPOROČILA? KJE STE JIH ŽE VIDELI?

ALI JIH MORAMO UPOŠTEVATI?


PO NAVODILIH OBKROŽI PIKTOGRAME.

- PIKTOGRAM »NE HODI PO TRAVI« OBKROŽI Z **RDEČO** BARVICO.
- PIKTOGRAM »PREPOVEDANO KURJENJE OGNJA V NARAVI« OBKROŽI Z **MODRO** BARVICO.
- PIKTOGRAM »PSA NA VRVICO« OBKROŽI Z **ZELENO** BARVICO.





TOREK, 12.5.

MATEMATIKA – SEŠTEVAMO OD 10 DO 20




$3 + 1 = 4$



$13 + 1 = 14$



$5 + 2 = 7$



$15 + 2 = 17$




$4 + 4 = \underline{\quad}$



$14 + 4 = \underline{\quad}$



$2 + 3 = \underline{\quad}$



$12 + 3 = \underline{\quad}$

RAČUNE PREPIŠI V ZVEZEK IN JIH REŠI.

6	+	2	=	—		1	+	3	=	—		7	+	2	=	—
16	+	2	=	—		11	+	3	=	—		17	+	2	=	—
4	+	1	=	—		3	+	5	=	—		8	+	1	=	—
14	+	1	=	—		13	+	5	=	—		18	+	1	=	—
7	+	2	=	—		2	+	2	=	—		5	+	5	=	—
17	+	2	=	—		12	+	2	=	—		15	+	5	=	—

ŠPORT

Danes boš za telovadbo potreboval/a svojo najljubšo plišasto igračo. Kar pojdi jo iskat.

Sta pripravljena?

Klikni na spodnjo povezavo in uživaj 😊

<https://www.youtube.com/watch?v=7VAElkGmXno>